

Kangourou Italia
Gara del 20 marzo 2014
Categoria Benjamin
Per studenti di prima o seconda della scuola
secondaria di primo grado



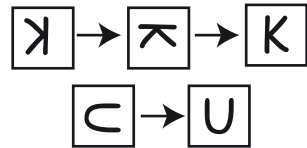
BENJAMIN

I quesiti dal N. 1 al N. 10 valgono 3 punti ciascuno

1. Paolo ha alcune carte su ciascuna delle quali compare una lettera e le ha allineate come ti mostra la prima figura.



Perché la parola **KANGOUROU** appaia scritta correttamente, occorre però che alcune carte vengano ruotate, in qualche verso, una o due volte di 90 gradi. La seconda figura ti mostra le rotazioni da eseguire sulla lettera K e su una delle lettere U. Quante rotazioni di 90 gradi devono essere eseguite in totale perchè la scrittura appaia corretta?

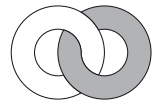


- A) 4 B) 5 C) 6 D) 7 E) 8

2. Una torta pesa 900 grammi. Luisa la taglia in quattro fette, la più grande delle quali pesa quanto le altre tre messe insieme. Quanti grammi pesa la fetta più grande?

- A) 250 B) 300 C) 400 D) 450 E) 600

3. Pietro e Paolo sono uno di fronte all'altro, separati da un vetro verticale trasparente su cui sono incollati due anelli, uno bianco e uno grigio, allacciati l'uno all'altro. La figura ti mostra come li vede Pietro.



Come li vede Paolo?



- A) B) C) D) E)

4. Nella addizione che ti mostriamo, le cifre centrali di ogni addendo sono state sostituite dal simbolo di dollaro. Qual è la somma di queste cifre?

- A) 0 B) 1 C) 2
D) 3 E) 10

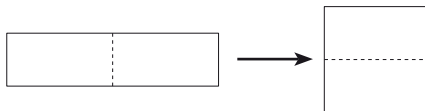
$$\begin{array}{r}
 \$2 \\
 + \$3 \\
 + \$4 \\
 \hline
 = 309
 \end{array}$$

5. Quanto vale la differenza fra il più piccolo numero intero di cinque cifre e il più grande numero intero di quattro cifre?

- A) 1 B) 10 C) 1111 D) 9000 E) 9900



6. Osserva quello che ti suggerisce la figura: un certo rettangolo è tale che, se viene tagliato a metà e le due metà vengono poste una sopra l'altra, si forma un quadrato. L'area del quadrato è 144 cm^2 . Quanti centimetri è lungo il perimetro del rettangolo?



- A) 24 B) 30 C) 48 D) 60 E) 72

7. Caterina ha 62 fiammiferi tutti uguali fra loro. Usandoli tutti, senza spezzarli, li ha disposti in modo da formare alcuni (uno o più) triangoli equilateri e un quadrato, che non hanno punti comuni. Per ogni lato di un triangolo ha usato 6 fiammiferi. Quanti ne ha usati per ogni lato del quadrato?

- A) 2 B) 6 C) 7 D) 11
E) Non è possibile rispondere senza conoscere il numero dei triangoli.

8. La collana di Franca che vedi in figura contiene perle grigie e perle bianche.



Franca vuole regalare a Bruna cinque delle perle grigie, sfilandole dalle estremità. Poiché inserire di nuovo le perle richiede molto tempo, Franca vuole sfilare, insieme alle grigie, il minor numero di perle bianche che le consenta di raggiungere lo scopo. Qual è questo numero?

- A) 2 B) 3 C) 4 D) 5 E) 6

9. Cecilia ha inserito i numeri 6, 7, 8 e 9 nei quadrati bianchi in figura, uno per ogni quadrato, in modo da ottenere come risultato, una volta eseguite le operazioni indicate, il numero più alto possibile. Qual è questo numero? (Prima va eseguito il prodotto, poi la somma).



- A) 114 B) 138 C) 148 D) 149 E) 152


10. L'orologio digitale di Bianca è parzialmente danneggiato: tutte e tre le linee orizzontali della cifra più a destra (quella dei minuti) non si illuminano. L'orologio è appena scattato dall'immagine mostrata a sinistra a quella mostrata a destra. Che ore sono in questo momento?



- A) 12:40 B) 12:44 C) 12:47 D) 12:48 E) 12:49

I quesiti dal n. 11 al n. 20 valgono 4 punti ciascuno

11. Guido ha composto il piccolo mosaico che vedi in figura e può scegliere una fra quattro piastrelle rimaste per completarlo. Vuole che, una volta completato, la parte nera abbia la stessa area della parte bianca. Quale piastrella deve mettere al posto del punto di domanda?



- A) B) C) D)

E) Qualunque delle quattro piastrelle metta, non potrà fare sì che le due aree siano uguali.



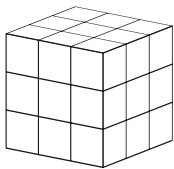
19. Miriam ha alcuni cioccolatini: sia che li raggruppi in gruppi da 3 sia che li raggruppi in gruppi da 5, gliene rimangono sempre 2. Quanti ne deve prendere ancora al minimo se vuole che, sia raggruppandoli in gruppi da 3 sia raggruppandoli in gruppi da 5, non gliene avanzi nessuno?

- A) 3 B) 1 C) 4 D) 10 E) 13

20. Le facce di un cubo sono numerate da 1 a 6. Si sa che le facce 1 e 6 hanno in comune uno spigolo e che lo stesso cosa accade per le facce 1 e 5, 1 e 2, 6 e 5, 6 e 4, 6 e 2. Quale faccia è opposta alla faccia 4?

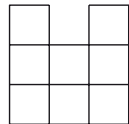
- A) 1 B) 2 C) 3 D) 5
E) Occorrono ulteriori informazioni per rispondere.

I quesiti dal n. 21 al n. 30 valgono 5 punti ciascuno



21. In figura (a sinistra) vedi un cubo formato accostando 27 cubetti uguali fra loro.

Vuoi rimuovere alcuni cubetti in modo che, guardando il cubo da ciascuna delle facce che appaiono nella figura (cioè da sopra, di fronte e da destra) ti appaia sempre l'immagine a destra.



Qual è il minor numero di cubetti levando i quali puoi raggiungere lo scopo?

- A) 4 B) 5 C) 6 D) 7
E) 9

22. Su un disco sono incise di seguito cinque canzoni A, B, C, D e E: la A dura 3 minuti, la B 2 minuti e mezzo, la C 2 minuti, la D un minuto e mezzo, la E 4 minuti. Tra una canzone e la successiva non vi sono pause e, una volta terminata la E, il disco riprende immediatamente con la A. Pino è uscito di casa, senza fermare il disco, mentre veniva eseguita la canzone C ed è rientrato esattamente un'ora dopo. Quale canzone veniva eseguita mentre rientrava in casa?

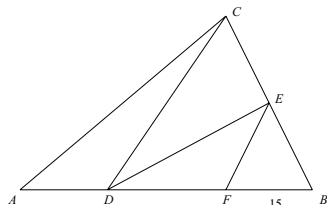
- A) A B) B C) C D) D E) E

23. Quanti numeri interi (positivi) di due cifre sono divisori di 2014?

- A) 2 B) 3 C) 4 D) 5 E) 6

24. Il triangolo ABC in figura è suddiviso nei quattro triangoli ADC , DEC , FED e FBE che hanno tutti la stessa area (la figura è solo indicativa). Il segmento FB è lungo 15 metri. Quanti metri misura il segmento AD ?

- A) 7 B) 8 C) 9 D) 10 E) 11

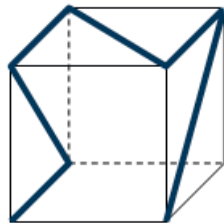


25. Il re e i suoi messaggeri stanno viaggiando dal castello alla residenza estiva alla velocità di 5 Km all'ora. Ogni ora il re, dal punto in cui si trova, rimanda indietro al castello un messaggero che corre alla velocità di 10 Km all'ora. Quanti minuti passano fra l'arrivo al castello di un messaggero e del successivo?

- A) 30 B) 60 C) 75 D) 90 E) 120



26. Osserva la figura. Su un cubo di plastica trasparente è tracciata una linea decorativa, ricalcando alcuni degli spigoli e alcune diagonali di alcune facce. Per ciascuna delle sue facce, immagina di appiattire il cubo schiacciandolo perpendicolarmente su quella faccia (in questo modo, delle cinque facce che si muovono, solo la faccia opposta rimarrà intatta, mentre le altre quattro risulteranno compresse, ciascuna su uno dei lati di quella faccia). Ognuna delle seguenti immagini può allora essere ottenuta, tranne una. Quale?



A)



B)



C)



D)



E)

27. Sulla lavagna sono scritti tre numeri di una cifra ciascuno: la loro somma è 15. Aldo ne cancella uno e lo sostituisce con il numero 3: adesso il loro prodotto è 36. Qual è il numero cancellato da Aldo?

A) 6 o 7, ed entrambi sono possibili.

B) 7 o 8, ed entrambi sono possibili.

C) Sicuramente 6.

D) Sicuramente 7.

E) Sicuramente 8.

28. Al coniglio Tim piacciono le carote e le carrube. Nei giorni in cui non è a dieta, mangia o 9 carote oppure 2 carrube oppure 4 carote e 1 carruba. Nei giorni in cui è a dieta, invece, mangia solo erba. Negli ultimi 10 giorni ha mangiato complessivamente 30 carote e 9 carrube. In quanti di questi 10 giorni ha mangiato solo erba?

A) 0

B) 1

C) 2

D) 3

E) 4

29. In una strana regione del mondo, i due giorni che precedono ogni giorno di sole sono giorni di pioggia. In più, il quinto giorno dopo ogni giorno di pioggia è ancora un giorno di pioggia. Oggi in quella regione è un giorno di sole: per quanti giorni consecutivi a partire da domani, al massimo, possiamo prevedere se saranno di pioggia o di sole? (La risposta "1", ad esempio, significa che possiamo predire il tempo di domani, ma non di dopodomani.)

A) 1

B) 2

C) 4

D) Non possiamo fare previsioni neppure per domani.

E) Possiamo predire il tempo per qualunque giorno a partire da domani.

30. Una nonna ha dieci nipoti: oggi le loro età, in anni, sono dieci numeri tutti diversi fra loro e la loro somma è 180. Fra i dieci nipoti, Aldo è quello di età maggiore. Quanti anni deve avere, al minimo, oggi Aldo?

A) 19

B) 20

C) 21

D) 22

E) 23



STRINGA BENJAMIN 2014

1	2	3	4	5	6	7	8	9	10	11	12	13	14	15	16	17	18	19	20	21	22	23	24	25	26	27	28	29	30
E	D	D	A	A	D	E	B	E	B	E	B	D	E	B	D	E	B	E	A	D	A	B	D	D	D	B	C	C	E