



Kangourou della Matematica 2006
finale nazionale italiana
Mirabilandia, 8 maggio 2006



LIVELLO STUDENT

S1. (5 punti) Denotiamo con n un numero intero maggiore di 1 e supponiamo che n punti di una circonferenza siano numerati da 1 a n in un ordine del tutto casuale. Per ogni coppia (non ordinata) di punti adiacenti si consideri il valore assoluto della differenza dei due numeri corrispondenti; si sommino quindi tutti i valori assoluti così ottenuti. Quanto vale al minimo questa somma?

S2. (7 punti) Siano p e q due numeri primi, diversi fra loro ed entrambi diversi da 2, tali che non ci sia alcun numero primo strettamente compreso tra p e q . È vero che $p + q$ è il prodotto di almeno tre numeri interi positivi maggiori di 1 (non necessariamente diversi tra loro)? In caso di risposta affermativa danne una motivazione, in caso di risposta negativa trova un contro-esempio.

S3. (11 punti) Considera, in un poligono regolare di 9 lati, la lunghezza delle diagonali più lunghe e quella delle diagonali più corte. Se il lato del poligono misura 1 centimetro, quanto vale la differenza di queste due lunghezze?

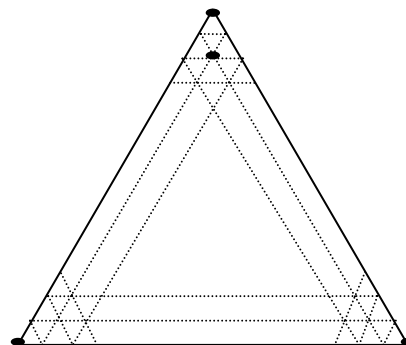
S4. (14 punti) Tutti i punti di un piano sono colorati o in rosso o in blu e c'è almeno un punto rosso ed almeno un punto blu. Considera le due configurazioni proposte qui di seguito.

- Ogni circonferenza di raggio 1 centimetro giacente sul piano contiene esattamente un punto blu.
- Ogni circonferenza di raggio 1 centimetro giacente sul piano contiene esattamente due punti blu.

È possibile che si verifichi a)? È possibile che si verifichi b)? Motiva le tue risposte.

S5. (18 punti) Quattro numeri interi a, b, c, d , con a non nullo, sono scelti in modo che l'insieme E dei numeri interi positivi n tali che $an + b$ divide $cn + d$ non sia finito. L'insieme E può essere diverso dall'insieme \mathbf{N} dei numeri interi positivi? Motiva la risposta.

S6. (22 punti) Un triangolo equilatero di lato n (n intero maggiore di 1) è suddiviso in n^2 "piccoli" triangoli equilateri utilizzando segmenti paralleli ai lati, come suggerito dalla figura. A tutti i punti della rete (vertici dei triangoli) che viene così realizzata è inizialmente associato il numero 0, tranne ai quattro punti marcati con \bullet , cui è associato il numero 1. Vogliamo fare in modo che a tutti i suddetti punti, compresi questi ultimi quattro, finisca per essere associato il numero 0 dopo aver eseguito un numero finito di mosse, ciascuna esclusivamente del tipo seguente: sommare 1 o -1 simultaneamente a ciascuno dei numeri nei quattro vertici di un qualunque rombo che sia formato dall'unione di due degli n^2 triangoli equilateri "piccoli". Per quali valori di n è possibile realizzare il progetto (e con quale strategia)?





Kangourou della Matematica 2006
finale nazionale italiana
Mirabilandia, 8 maggio 2006



LIVELLO STUDENT

S1. (5 punti) Denotiamo con n un numero intero maggiore di 1 e supponiamo che n punti di una circonferenza siano numerati da 1 a n in un ordine del tutto casuale. Per ogni coppia (non ordinata) di punti adiacenti si consideri il valore assoluto della differenza dei due numeri corrispondenti; si sommino quindi tutti i valori assoluti così ottenuti. Quanto vale al minimo questa somma?

Soluzione: $2n - 2$.

Il punto 1 e il punto n ripartiscono la circonferenza in due archi: per ciascuno di essi la somma dei valori assoluti che ci interessano non può essere inferiore a $n - 1$, quindi la somma totale non può essere minore di $2n - 2$. D'altra parte, questo valore viene realizzato quando la numerazione viene effettuata rispettando il verso orario o antiorario dei punti. Ci sono però casi in cui la somma risulta maggiore: ad es. se $n = 4$ e si assegnano ai punti i numeri 1, 3, 2, 4 in verso orario, le somme sono del tipo: $(3 - 1) + (3 - 2) + (4 - 2) + (4 - 1) = 8 > 6 = 2 \times 4 - 2$.

S2. (7 punti) Siano p e q due numeri primi, diversi fra loro ed entrambi diversi da 2, tali che non ci sia alcun numero primo strettamente compreso tra p e q . È vero che $p + q$ è il prodotto di almeno tre numeri interi positivi maggiori di 1 (non necessariamente diversi tra loro)? In caso di risposta affermativa danne una motivazione, in caso di risposta negativa trova un contro-esempio.

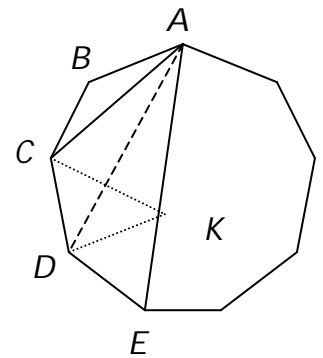
Soluzione: è vero.

Nelle nostre ipotesi $p + q$ è pari: se non potesse essere scritto come prodotto di almeno tre numeri interi positivi maggiori di 1, sarebbe della forma $2r$ con r numero primo. Ma allora r sarebbe un numero primo strettamente compreso tra p e q (essendone la media aritmetica).

S3. (11 punti) Considera, in un poligono regolare di 9 lati, la lunghezza delle diagonali più lunghe e quella delle diagonali più corte. Se il lato del poligono misura 1 centimetro, quanto vale la differenza di queste due lunghezze?

Soluzione: 1 centimetro.

In base alla formula sugli angoli interni di un poligono regolare, l'angolo ABC misura $180 \times 7 / 9 = 140$ gradi (e quindi CAB ne misura 20), mentre l'angolo EAB , che per motivi di simmetria è uguale all'angolo DEA , misura $(180 \times 3 - 140 \times 3) / 2 = 60$ gradi. Sia ora K il punto di AE tale che $AK = AC$: nel triangolo isoscele KAC , l'angolo ACK misura $(180 - 40) / 2 = 70$ gradi. Dunque CK è perpendicolare a BC e quindi anche a DA , che gli è parallelo. Allora AD è asse di CK , per cui il triangolo CDK è isoscele; ne segue che i due angoli alla base misurano entrambi 50 gradi, quello al vertice 80 gradi e quindi KDE misura 60 gradi come DEK : il triangolo DEK è dunque equilatero e la lunghezza di EK è 1 centimetro.



S4. (14 punti) Tutti i punti di un piano sono colorati o in rosso o in blu e c'è almeno un punto rosso ed almeno un punto blu. Considera le due configurazioni proposte qui di seguito.

- Ogni circonferenza di raggio 1 centimetro giacente sul piano contiene esattamente un punto blu.
- Ogni circonferenza di raggio 1 centimetro giacente sul piano contiene esattamente due punti blu.

È possibile che si verifichi a)? È possibile che si verifichi b)? Motiva le tue risposte.

Soluzione: la a) non è possibile.

Infatti sia B un punto blu: sulla circonferenza di centro B e raggio 1 centimetro dovrebbe trovare posto un altro punto blu, diciamo B' . Allora sulla circonferenza di raggio 1 centimetro, centrata nel terzo vertice di un triangolo equilatero che ha per primi due vertici B e B' , ci sarebbero almeno due punti blu: B e B' .

La b) invece è realizzabile.

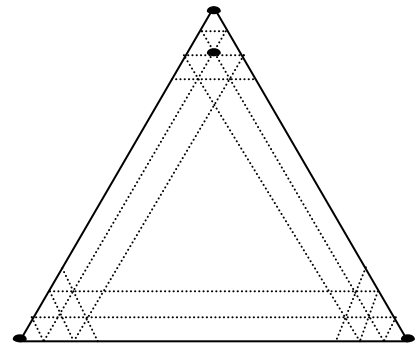
Si colorino di blu una retta fissata e tutte le rette ad essa parallele che distino 2 centimetri dalla più vicina retta blu; si colori di rosso il resto del piano. Una circonferenza di raggio 1 centimetro o ha centro equidistante da due di queste rette e quindi risulta ad esse tangente (e i punti di tangenza sono i due punti blu), oppure interseca solo una di queste rette, esattamente in due punti (che sono ovviamente i suoi unici punti blu).

S5. (18 punti) Quattro numeri interi a, b, c, d , con a non nullo, sono scelti in modo che l'insieme E dei numeri interi positivi n tali che $an + b$ divide $cn + d$ non sia finito. L'insieme E può essere diverso dall'insieme \mathbf{N} dei numeri interi positivi? Motiva la risposta.

Soluzione: no.

Se $an + b$ divide $cn + d$ allora divide anche $a(cn + d)$ e $c(an + b)$ e quindi la loro differenza $ad - bc$. Se $an + b$ divide $ad - bc$ per infiniti n , deve risultare $ad - bc = 0$: deve quindi esistere un intero positivo k tale che $b = ak$ e $d = ck$. Sostituendo tali espressioni nel rapporto tra $cn + d$ e $an + b$, si trova che il rapporto vale costantemente c/a al variare comunque di n : quindi, se anche per un solo n tale rapporto è un intero, lo è per tutti gli n .

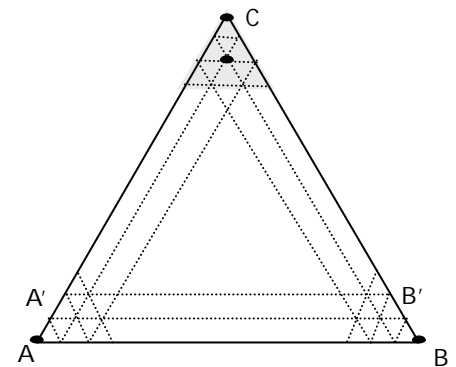
S6. (22 punti) Un triangolo equilatero di lato n (n intero maggiore di 1) è suddiviso in n^2 "piccoli" triangoli equilateri utilizzando segmenti paralleli ai lati, come suggerito dalla figura. A tutti i punti della rete (vertici dei triangoli) che viene così realizzata è inizialmente associato il numero 0, tranne ai quattro punti marcati con \bullet , cui è associato il numero 1.



Vogliamo fare in modo che a tutti i suddetti punti, compresi questi ultimi quattro, finisca per essere associato il numero 0 dopo aver eseguito un numero finito di mosse, ciascuna esclusivamente del tipo seguente: sommare 1 o -1 simultaneamente a ciascuno dei numeri nei quattro vertici di un qualunque rombo che sia formato dall'unione di due degli n^2 triangoli equilateri "piccoli". Per quali valori di n è possibile realizzare il progetto (e con quale strategia)?

Soluzione: solo per n dispari.

Se n è dispari, in due mosse è possibile spostare 1 da A in A' (si veda la figura); similmente si sposta 1 da B in B' . Dunque in $2(n-3)$ mosse questi "1" passano nei vertici in basso del triangolo evidenziato in grigio e in 4 ulteriori mosse tutti gli "1" vengono concentrati nel rombo superiore. Possono quindi venire azzerati con un'ultima mossa.



Se invece n è pari il progetto non può essere realizzato. Infatti coloriamo i punti della rete con i quattro colori a, b, c, d in modo che, per ogni rombo, i suoi vertici abbiano colori a due a due diversi, per esempio nel modo seguente: alterniamo i colori a e b , partendo da a , sul lato orizzontale del triangolo "grande", i colori c e d sul segmento parallelo adiacente, di nuovo i colori a e b sul segmento parallelo al livello superiore e così via. Se n è pari, tutti i tre vertici A, B, C del triangolo "grande" di partenza vengono colorati con a , mentre il rimanente punto, cui è associato il numero 1, viene colorato con b . Complessivamente, la somma dei numeri associati ai punti colorati con a vale 3, la somma dei numeri associati ai punti colorati con b vale 1, la somma dei numeri associati ai punti colorati con c o con d vale 0. Poiché ogni mossa altera ognuna di queste somme di 1, è chiaro che le prime due somme non potranno mai essere rese uguali fra loro.